
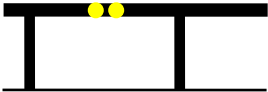

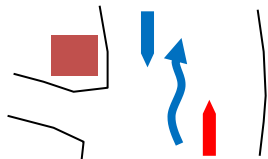
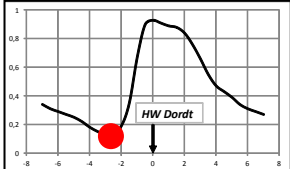
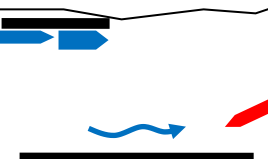





Koninklijke Dordrechtsche Roei en Zeilvereeniging



Theoriekaart 4-4 Roeiwater en vaarregels

<p>1. "Klein wijkt voor groot" is een belangrijke voorrangsregel op het water. Een groot schip is langer dan ...</p>	<p>a. 12 mtr. b. 15 mtr. c. 20 mtr.</p>
 <p>2. Aan weerszijden van de hefbrug branden twee rode lampen. Daarbij hangt er in het midden een geel bord. Welke regel geldt hier?</p>	<p>a. De brug wordt niet bediend, onderdoorvaart is verboden. b. De brug wordt niet bediend, onderdoorvaart is toegestaan. c. De brug wordt bediend, onderdoorvaart is toegestaan.</p>
<p>3. Een belangrijke regel uit het BPR bepaalt de volgorde in voorrang op het water. Welke volgorde is juist?</p>	<p>a. motor-spijkracht-zeil. b. zeil-spijkracht-motor. c. spijkracht-motor-zeil.</p>
 <p>4. Twee gele lampen geven aan dat:</p>	<p>a. onderdoorvaart toegestaan is vanaf de andere zijde. b. onderdoorvaart niet is toegestaan vanaf de andere zijde. c. onderdoorvaart vanaf de andere zijde voorrang heeft.</p>
 <p>5. Mag je door dit gat roeien?</p>	<p>a. Ja. b. Ja, zonder tegenvaart. c. Nee.</p>
<p>6. Als je een boot via de glijstrip te water laat, ligt de boeg ...</p>	<p>a. met de stroom mee. b. tegen de stroom in. c. haaks voor het vlot.</p>
 <p>7. Je komt met zeer sterke stroom mee, vanaf de Roei, langs de ingang van de Westergoot en een roeiboot komt je tegemoet. Wat verwacht je?</p>	<p>a. Niks. b. De stroom om de punt zet de tegenligger naar het midden met gevaar voor aanvaring. c. De stroom houdt de twee boten uit elkaar</p>
 <p>8. De waterstand bij het vlot is vrij laag en het stroomt niet. Wat is de verwachting?</p>	<p>a. De stroming zal de komende uren richting Prins Hendrik brug gaan (eb). b. De stroming zal de komende uren richting Spoorbrug gaan (vloed). c. Daar is niks van te zeggen.</p>
 <p>9. Je komt bij het vlot aan met sterke stroom tegen. Je wilt aanleggen. Wat doe je?</p>	<p>a. Je zorgt voor een goede snelheid. b. Je kiest altijd dezelfde hoek bij het aanleggen. c. Je kiest een grotere hoek bij het aanleggen.</p>
 <p>10. Je legt tegen stroom aan. Je hebt echter weinig snelheid. Wat kan hiervan het gevolg zijn?</p>	<p>a. Je schiet het vlot voorbij. b. Je haalt het vlot net maar kunt niet bijdraaien. c. Je raakt met de achterkant van de boot het vlot.</p>

Antwoorden theoriekaart 4-4 Roeiwater en vaarregels

- | | |
|----|---|
| 1 | C |
| 2 | B |
| 3 | B |
| 4 | B |
| 5 | C |
| 6 | B |
| 7 | B |
| 8 | B |
| 9 | A |
| 10 | B |